

# SOSYAL BİLGİLER

Konu Testi

ISLEYEN ZEKA

ISLEYEN  
ZEKA

OKULA  
yardımcı  
**CEK**  
KOPAR KONU TESTİ

1. İnsanların tek başlarına başaramayacakları işler vardır. Bu bakımdan zorlukların aşılması için güçlerini birleştirme ihtiyacı duyarlar. Zor işleri başarmanın yolu yardımlaşma ve dayanışmadır.

**Buna göre;**

- I. Dost, kara günde belli olur.  
II. Yalnız öküz çiftte koşulmaz.  
III. Sacayağın ayağı üç olur, birbirine güç olur, biri kırılırsa hiç olur.

**atasözlerinden hangileri yardımlaşma ve dayanışma ile ilgilidir?**

- A) Yalnız III.                      B) I ve III.  
C) II ve III.                        D) I, II ve III.

2. Bireyin doğduğu anda içinde bulunduğu ilk sosyal kurum ailedir. Yaşı ilerledikçe bireyin içinde bulunacağı kurum ve gruplar değişebilir.

**Buna göre bireyin içinde bulunduğu grup ve kurumlarla ilgili aşağıdaki yargılardan hangisine ulaşılabilir?**

- A) Aile tüm yaşam boyunca sahip olunan grupların ilkidir.  
B) Sınıftaki grubumuzda rolümüz kardeş olabilir.  
C) Aile içinde rollerimiz değişebilir.  
D) Hayat boyu süren bir faktördür.

3. Tüm vergilerini ödeyen Hüseyin Bey sorumluluklarını yerine getirmektedir.

**Buna göre Hüseyin Bey'in grup-rol sıralaması aşağıdakilerden hangisinde doğru verilmiştir?**

- A) Aile - Baba  
B) Toplum - Vatandaş  
C) Voleybol Kulübü - Pasör  
D) Toplum - İşçi

4. Birey, toplumu oluşturan en küçük parçadır. Bireyin toplumdaki yeri o bireyin davranışına göre olumlu ya da olumsuz şekilde değişebilir.

**Bu bilgiye göre aşağıdakilerden hangisi söylenebilir?**

- A) Bireysiz bir toplum düşünülemez.  
B) Birey olmadan da toplum oluşabilir.  
C) Toplumda bireyin yeri yoktur.  
D) Birey, toplumu olumsuz hâle getirir.

5. Eskiden erkek ve kadın rollerinin üstlendiği görevler çok belirgindi. Şu görevleri erkekler yapar, şunları kadınlar yapar şeklindeydi. Fakat günümüzde özellikle kadının çalışma hayatına katılımının artmasıyla yapılan görevler arasındaki ayrımın azaldığı gözlenmektedir.

**Verilen bilgilere göre kadın ve erkeğin üstlendiği görevlerin değişim geçirmesinde etkili olan olay aşağıdakilerden hangisidir?**

- A) Kadınların çalışma hayatına katılımlarının artması  
B) Erkek nüfus oranının azalması  
C) Kadınların hiçbir rol üstlenmek istememesi  
D) Erkeklerin toplumsal hayata uyum sağlayamaması

6. Bireyin, Eğitim Fakültesi'ndeki öğrenciliğinden sonra sosyal bilgiler öğretmeni olması aşağıdakilerden hangisi ile açıklanabilir?

- A) Rollerin bazılarının doğuştan gelmesiyle  
B) Rollerin zaman içerisinde değişmesiyle  
C) Gruplar değişse de rollerin değişmemesiyle  
D) Aynı anda farklı rollere sahip olabilmesiyle

1

7. Bir futbol takımında oynayan Akif hafta sonu yapacakları maçla ilgili takım arkadaşlarını motive etmektedir. Soyunma odasında teknik direktörün konuşmalarından yola çıkarak birlikte top koşturduğu arkadaşlarına "bu maçı kazana-cağız" demiştir.

**Buna göre Akif'in içinde bulunduğu grup ile ilgili aşağıdakilerden hangisi söylenemez?**

- A) Ortak bir hedefleri vardır.  
B) İsteyerek ve planlı olarak bir araya gelirler.  
C) Birbirlerini yakından tanırılar.  
D) Oluşturdukları grup okul içerisinde yer almaktadır.

8. Necip, Orhan Cemal Ortaokulu'na giden başarılı bir öğrencidir. Necip'in en çok sevdiği etkinlik ise kitap okumaktır ve vaktinin büyük çoğunluğunu kütüphanede geçirmektedir.

**Aşağıdakilerden hangisi Necip'in üstlendiği rollerden biri değildir?**

- A) Kütüphane kulübü üyesi  
B) Çocuk  
C) Öğretmen  
D) Öğrenci

9. Metin Bey, kendi büyüklerinin çocuğu, kamu kurumunda memur kendi evinde çocuklarının babası ve Mehmetçik Vakfı'nın bir üyesidir.

**Metinde verilen bilgiye göre aşağıdakilerden hangisine ulaşılabilir?**

- A) Bireyler sadece bir rol üstlenmek zorundadır.  
B) Kişi birden fazla rol üstlenebilir.  
C) Metin Bey, kurumundaki en iyi memurdur.  
D) Metin Bey, üzerine düşen hak ve sorumlulukları yerine getirememektedir.

10. Anne, baba ve çocuktan oluşan ailedeki bireylere düşen roller, içinde buldukları toplum yapısından ve geleneklerinden etkilenir.

**Verilen bilgilerden rollerle ilgili,**

- I. Toplumdan topluma farklılık gösterebilir.  
II. Örf ve adetlere bağlı hareket eder.  
III. Siyasi gücün etkisi altındadır.

**yargılarından hangilerine ulaşılabilir?**

- A) Yalnız I.                      B) I ve II.  
C) II ve III.                      D) I, II ve III.

11. • Ödevlerini yapmak

- Okula zamanında gitmek  
• Dersleri dinlemek

**Yukarıda verilen sorumlulukları üstlenen bir kişi hangi role sahiptir?**

- A) Öğretmen                      B) Öğrenci  
C) Doktor                         D) Anne

12. İnsanlar, buldukları yaşlara göre toplumda farklı roller üstlenebilirler. Her şeyin oluşmasında zaman faktörü etkili olmaktadır. Dolayısıyla bazı roller her yaşta ortaya çıkmaz.

**Bu bilgilere göre 6. sınıf öğrencisi olan Azra aşağıdaki rollerden hangisine sahip olamaz?**

- A) Öğretmen                      B) Çocuk  
C) Öğrenci                         D) Abla

1.



Aslı  
Öğretmen

Çocuklar kültürel değişmeyi kolaylaştıran faktörler nelerdir?

**Aslı Öğretmen'in sorusuna aşağıdaki öğrencilerden hangisi yanlış cevap vermiştir?**

A)



Ülkelerin gelişmişlik seviyeleri

B)



Farklı toplumlarla olan ilişkileri

C)



Toplumun değerleriyle çatışmaması

D)



Köklü alışkanlıkları

2. Türkler, dünya coğrafyası üzerinde sık sık yurt değiştirerek çok geniş bir alana yayılmışlar birçok kültür ve dinin etkisi altında kalarak farklı uygarlıklarla yaşamışlardır. Bunun sonucunda Orta Asya'dan günümüze değişen, gelişen bir Türk kültürü ortaya çıkmıştır.

**Verilen bilgilere bakılarak Türk kültürüyle ilgili aşağıdakilerden hangisi söylenemez?**

- A) Farklı kültürlerden etkilenmiştir.  
B) Geçmişten günümüze değişim ve gelişim göstermiştir.  
C) Kültürel değişimde din etkili olmuştur.  
D) Dünyadaki en gelişmiş kültürüdür.

3. Kültür, insanın kendinden önceki nesillerden devraldığı, kısmen geliştirdiği ve kendinden sonraki nesillere aktardığı sosyal bir mirastır. Kültür tarihsel ve toplumsal gelişme süreci içinde oluşturulan bütün maddî ve manevî değerler bütünüdür.

**Verilen bilgilere bakılarak kültürle ilgili,**

- I. Geçmişin geleceğe aktarılmasıdır.  
II. Toplumla iç içe bütündür.  
III. Toplumlar arası etkileşime kapalıdır.

**yargılardan hangilerine ulaşılabilir?**

- A) Yalnız I.                      B) I ve II.  
C) II ve III.                      D) I, II ve III.

4. Her ulusun ortak bir geçmişi vardır. Bu ortak geçmiş, o ulus için hayati öneme sahiptir. Geçmişte yaşanan olaylar insanları birbirine yaklaştırır. Ulusal birlik ve beraberliği sağlar.

**Metinde verilen bilgiye göre kültürü oluşturan hangi unsurdan bahsedilmiştir?**

- A) Ülkü birliği                      B) Din birliği  
C) Cinsiyet birliği                      D) Tarih birliği

5. Ahmet toplumların kültürleri üzerine araştırma yapmaktadır.

**Buna göre Ahmet, bir toplumun kültürel özelliklerine bakarak o toplumun;**

- I. eğitim düzeyi,  
II. güzel sanatları,  
III. toplumsal anlayışları

**özelliklerinden hangilerine ulaşılabilir?**

- A) Yalnız I.                      B) I ve II.  
C) II ve III.                      D) I, II ve III.

2

6. Toplum; ortak inançları, değerleri, davranış ve tutumları olan, ortak bir kültürü paylaşan, etkileşim hâlinde olan bireylerin oluşturduğu toplumdur.

**Verilen bilgide toplumu ve kültürü oluşturan hangi unsura değinilmemiştir?**

- A) Din  
B) Gelenek ve görenekler  
C) Teknoloji  
D) Tarih

7.

Dil	Teknoloji
Din	Örf ve Adet
Eğitim	Değerler
Ekonomi	Sosyal Kurumlar

Yukarıda kültürü oluşturan bazı öğeler verilmiştir.

**Verilenlere bakılarak aşağıdaki genellemelerden hangisine ulaşılabilir?**

- A) Kültürün oluşmasında maddî ve manevî birçok etken bulunmaktadır.  
B) Kültürün oluşmasında en fazla din etkilidir.  
C) Teknoloji kültürü olumsuz yönde etkiler.  
D) Dil, bir kültürel aktarım aracı değildir.

8. Toplumda yaşayan insanların davranışları üzerinde büyük etkisi vardır. Her ne kadar yazılı kuralları olmasa da toplum tarafından dışlanılacağı düşünülerek bu kültürel öğeye göre davranırlar.

**Verilen bilgilerde anlatılan kültürel öğe aşağıdakilerden hangisidir?**

- A) Dil  
B) Tarih  
C) Gelenekler  
D) Sanat

9. Yazıya geçen her eser kültüre dahildir. Ne var ki çok etkili ve sürekli bir kültür aracı olması bakımından edebiyatın öteki kültür eserleri arasında ayrıcalıklı bir yeri vardır.





**Verilen bilgiye bakılarak,**

- I. Dil, kültürel aktarımda bir araçtır.  
II. Dil, kültürel değişimde etkisizdir.  
III. Edebiyat, kültür eserleri arasında farklı bir yere sahiptir.

**yargılarından hangilerine ulaşılabilir?**

- A) Yalnız I.  
B) I ve II.  
C) I ve III.  
D) II ve III.

10. Aşağıdaki öğrencilerden hangisi kültürü oluşturan unsurları yanlış örneklendirmiştir?

- A)  Dil
- B)  Din
- C)  Gelenekler
- D)  Teknoloji

11. Dil ve kültür ilişkisiyle ilgili,

- I. Dil, bir ulusun geçmişini geleceğe bağlayan bir araçtır.  
II. Ortak dil, bir toplumun ulus olmasında etkilidir.  
III. Dili şekillendiren toplumun ait olduğu kültürüdür.

**ifadelerinden hangileri doğrudur?**

- A) Yalnız I.  
B) I ve II.  
C) II ve III.  
D) I, II ve III.

1. Günümüzde teknolojinin gelişmesiyle birlikte dünya giderek çeşitli kültürlerin, farklı ırktan insanların bir arada yaşadığı toplum hâline gelmiştir. Dolayısıyla farklılıklara karşı insanlar saygılı davranmaktadır.

**Verilenlere bakılarak,**

- I. Farklılıklara karşı ön yargılı davranılmamalıdır.  
II. Farklılıklara saygı birlik ve beraberliği geliştirmektedir.  
III. Her zaman ön yargılı davranmak gereklidir.

**yargılarından hangilerine ulaşılabilir?**

- A) Yalnız I.                      B) I ve II.  
C) I ve III.                      D) II ve III.

2. Bir kişiyle veya olayla ilgili önceden olumlu veya olumsuz karar vermeye ön yargı denir. Diğer adı peşin hükümlü olmaktadır.

**Buna göre aşağıdaki öğrencilerden hangisinin söylediği ön yargıya örnek olmaz?**

- A)  Yarın öğretmen bize çok kızacak.
- B)  Annem yaptığım yemekleri çok beğenecek.
- C)  Bu ödevde öğretmen yüksek not verecek.
- D)  Sınavdan düşük not almışım.

İşleyen Zeka Yayınları

3. Eğitim hizmeti okullarda gerçekleşmektedir. Belirli yaşlarda okula başlayan çocuklar yıllar ilerledikçe farklı okul gruplarında eğitimlerine devam ederler. Anaokulu eğitimi alan öğrenciler daha başarılı olacaklardır. Eğitim hayatları daha düzenli olacaktır.

**Verilen bilgilerde altı çizili cümleyle ilgili aşağıdakilerden hangisi söylenebilir?**

- A) Ön yargılı bir cümledir.  
B) Sosyal rollerin olumsuzluğundan bahsetmektedir.  
C) Anaokulunun eğitim için gereksiz olduğu vurgulanmaktadır.  
D) Anaokulunda bireylerin gelişimi durmaktadır.

4. Kırkağaç Kaymakamlığı Sosyal Yardımlaşma ve Dayanışma Vakfı Başkanlığınca Kırkağaç merkez, belde, köy ve kasabalar genelinde 914 adet büyükbaş hayvan dağıtılmıştır. Toplumsal birlikteliğe katkı sağlamıştır.

**Bu durumla ilgili,**

- I. Resmî makamlar yardımlaşmaya önem vermektedir.  
II. Yardımlaşma birlikteliğe katkı sağlar.  
III. Yardım sadece zenginlere yapılır.

**yargılardan hangilerine ulaşılabilir?**

- A) Yalnız I.                      B) I ve II.  
C) II ve III.                      D) I, II ve III.

5. Ali, insanlara yardımcı olmayı ve faydalı işler yapmayı sevmektedir. Bu nedenle boş zamanlarında insanlara yardımcı olan kurumlarda görev almayı çok istemektedir.

**Buna göre Ali aşağıdaki kuruluşlardan hangisinde görev üstlenirse amacına ulaşmış olmaz?**

- A) Yeşilay                      B) Kızılay  
C) AKUT                      D) Emniyet Müdürlüğü

6. – Türk Eğitim Gönüllüleri Vakfı ülkemizde iyi eğitilmiş insanların daha çok olması için hizmet vermektedir.
- AKUT dağ veya doğa koşullarında meydana gelen kaza ve kaybolmalarda vatandaşlara yardım etmektedir.

**Türk Eğitim Gönüllüleri Vakfı ve AKUT ile ilgili verilen bilgilere bakılarak aşağıdakilerden hangisi ortak özellikleri olarak gösterilebilir?**

- A) İnsanlara yardım etme amaçları vardır.
- B) Doğayı korumaya çalışmaktadırlar.
- C) Eğitimi geliştirmeye çalışmaktadırlar.
- D) Kaza geçiren insanlara yardım amaçları vardır.

7. Yeterli bir eğitimle insan hak ve özgürlüklerine saygılı olma erdemini kazanmış bir bireyin aşağıdaki davranışlardan hangisini yapması beklenmez?

- A) Tüm insanları eşit olarak görme
- B) Başkalarının hakkını gözetme
- C) Kendisine karşı saygılı olma
- D) Kendi çıkarları doğrultusunda hareket etme

8. Aşağıdakilerden hangisi, bir toplumda özgürlük kavramının var olduğunun kanıtıdır?

- A) Sağlık hizmetlerinin yeterli olması
- B) Sorumluluk duygusuna sahip insanların olmaması
- C) Eğitim kuruluşlarının yetersiz olması
- D) Kişi hak ve özgürlüklerinin devlet tarafından güvence altına alınması

9. Bir toplumda aşağıda verilenlerden hangisinin yaşanması durumunda huzursuzluk artar?

- A) İnsanların farklı meslekleri yapmaları
- B) Farklı kıyafetlerin giyilmesi
- C) Çeşitli dillerin konuşulması
- D) Cinsiyet ayrımcılığının yapılması

10. İnsanlar zor durumda kaldıklarında resmi ve özel kuruluşlar onlara destek vererek sorunlarının ortadan kaldırılmasını sağlarlar.

**Verilen bilgide vurgulanan düşünce aşağıdakilerden hangisidir?**

- A) Yardımlaşma                      B) Özgürlük
- C) Barış                                D) Kanun

11. Aşağıdaki atasözlerinden hangisi birlik ve beraberliği vurgulamaktadır?

- A) Ayağını yorganına göre uzat.
- B) Akıl kişiye sermayedir.
- C) Bir elin nesi var, iki elin sesi var.
- D) Can boğazdan gelir.

12. Ülkemizde sigara, alkol gibi zararlı alışkanlıklardan halkı ve özellikle gençleri korumaya çalışan kuruluş aşağıdakilerden hangisidir?

- A) Yeşilay                              B) Kızılay
- C) AKUT                                D) Hakem Heyeti

1. Elif, okulunun kantininden aldığı meyve suyunun son kullanma tarihinin geçtiğini fark etmiştir. Meyve suyunu kantine geri götürüp değiştirilmesini istemiştir. Fakat bu isteği kantinci tarafından geri çevrilmiştir.

**Buna göre Elif bu şikâyetini çözmek için aşağıdaki kurum ve kuruluşlardan hangisine başvuramaz?**

- A) Tüketici Mahkemesi  
B) Jandarma Genel Komutanlığı  
C) Okul İdaresi  
D) Tüketici Hakları Derneği

2. Daha önce seyahat firmasından ayırmış olduğu biletin aynı gün başkasına satılması üzerine seyahata çıkamayan bir kişinin hangi davranışı sergilemesi, haklarına sahip çıkmadığını gösterir?

- A) İtiraz etmeden durumu kabullenmesi  
B) Diğer insanları bu konuda uyarması  
C) Yaptığı şikâyetin sonucunu takip etmesi  
D) İlgili kişi ya da kuruluşa dilekçe ile başvurması





3.



Mustafa Öğretmen

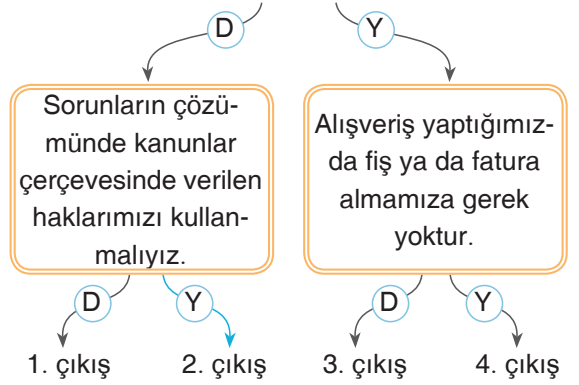
Bir kişinin isteyebileceği, ileri sürebileceği, kullanabileceği toplumca ve kanunlara göre tanınan yetkiye hak denir. Peki çocuk olarak hangi haklara sahipsiniz?

**Mustafa Öğretmen'in sorusuna aşağıdaki öğrencilerden hangisi yanlış cevap vermiştir?**

- A)  Çalışma hakkı B)  Eğitim hakkı  
C)  Sağlık hakkı D)  Yaşama hakkı

4. Aşağıda hak ve sorumluluklarla ilgili bazı bilgiler verilmiştir.

Kişinin davranışlarını değerlendirerek, sonucunu üstlenmesine sorumluluk denir.



**Verilen ifadelerden doğru olanlar için "D", yanlış olanlar için "Y" yolu izlenerek ilerlendiğinde hangi çıkışa ulaşılır?**

- A) 1. ÇIKIŞ B) 2. ÇIKIŞ  
C) 3. ÇIKIŞ D) 4. ÇIKIŞ

5.



Mehmet

İnsanlar, hastalandıklarında hastanelere giderek doktorların yönlendirmesiyle şifa bulmaya çalışmaktadır. Her vatandaşın buna hakkı vardır.

**Mehmet'in anlatımında bahsettiği hakkımız aşağıdakilerden hangisidir?**

- A) Eğitim hakkı  
B) Sağlık hakkı  
C) Dilekçe hakkı  
D) Seçme ve seçilme hakkı



6.

T.C  
Anayasası

**Madde 42:** Kimse eğitim ve öğretim hakkından yoksun bırakılamaz.

**Madde 67:** On sekiz yaşını doldurmuş her Türk vatandaşı oy kullanma hakkına sahiptir.

**Verilen bilgilere bakılarak,**

- I. İnsanlara sunulan haklar anayasal güvence altına alınmıştır.
- II. Eğitim herkese verilen bir haktır.
- III. Devlet halkına belli bir yaştan sonra siyasi hak vermiştir.

**yargılarından hangilerine ulaşılabilir?**

- A) Yalnız I.                      B) I ve II.  
C) II ve III.                      D) I, II ve III.

7. Ayşe'nin yaşadığı yerde okulun evlerine biraz uzak olmasından dolayı babası Ayşe'yi okula göndermemektedir.

**Buna göre Ayşe'nin hangi hakkı kısıtlanmış olmaktadır?**

- A) Sağlık                      B) Eğitim  
C) Dilekçe                      D) Çalışma

8. Aşağıdakilerden hangisi tüketici haklarına duyarlı bir beyaz eşya satıcısının ortaya koyacağı davranışlardan biridir?

- A) Sattığı malın fiş ya da faturasını hazırlaması  
B) Sattığı malda teknik bir hata varsa tüketiciden geri alarak teknik servise göndermesi  
C) Sattığı malın, bozulduğu takdirde kendisinin olmadığını iddia etmesi  
D) Düşük maliyetle aldığı malı çok yüksek fiyatla satması

9. Selma, çevre sorunlarının önlenmesi ile ilgili bir araştırma projesi almış ve bu proje kapsamında Çevre Bakanlığı'na başvurarak çalışmalarını hakkında bilgi istemiştir.

**Buna göre Selma aşağıdaki haklardan hangisini kullanmıştır?**

- A) Dilekçe hakkı  
B) Eğitim hakkı  
C) Seçme hakkı  
D) Bilgi edinme hakkı

10. I. Ekonomik gelir düzeyi  
II. Haklar  
III. Sorumluluklar  
IV. Siyasi görüşler

**Yukarıdakilerden hangilerini insanlar sorunlarına çözüm ararken dikkate almak zorundadır?**

- A) Yalnız I.                      B) I ve II.  
C) II ve III.                      D) III ve IV.

11. Aşağıdakilerden hangisi insanların bir sorun karşısında haklarını arama yöntemlerinden biri değildir?

- A) Tartışarak ikna etmek  
B) İlgili mahkemelere başvurmak  
C) Dilekçe hakkını kullanmak  
D) Hakem heyetine başvurmak

1.

Sibel  
Öğretmen

Arkadaşlar, ilk Türk devletlerinde ülke meselelerinin görüşüldüğü meclise ne ad verilir?



Tolga

Balbal



Gamze

Şaman



Sedat

Kurultay



Gizem

Yuğ

Sibel Öğretmen'in sorduğu soruya sınıftaki öğrencilerden hangisi doğru cevap vermiştir?

- A) Tolga                      B) Gamze  
C) Sedat                      D) Gizem

2.

"Kağanın buyruğu ile Mani dini artık her bucağa yayıldı. Bu dinin kavranması pek zor idi. Onlar tekrar tekrar Kağan'dan merhamet etmesini istiyorlardı. Uygurlar arasında yayılan bu dine göre hayvansal gıdaların yenmesi ve ağır içeceklerin içilmesi yasaktı."

Uygurlar'a ait Karabalgasun Yazıtı'nda verilenlere bakılarak,

- ▲ Halk farklı bir dinî benimsemeyi ilk önce istememiştir.
- Mani dinî Türk geleneklerinden farklı özellikler taşımaktadır.
- ★ Mani dinini ülkeye ilk olarak Kağan getirmiştir.

ifadelerden hangilerine ulaşılabilir?

- A) Yalnız ▲                      B) ▲ ve ●  
C) ● ve ★                      D) ▲, ● ve ★

3.



Tolga

Çin egemenliğinde yaşamak istemeyen Kuzey Hunları, Balamir önderliğinde batıya doğru hareket ederek ---- başlatmışlardır.

Tolga'nın cümlesinde boş bırakılan yer aşağıdakilerden hangisi ile tamamlanmalıdır?

- A) Çin Seddi'ni                      B) Kavimler Göçü'nü  
C) Onluk Sistemi                      D) Türk birliğini

4.

"685 yılında Oğuzların ülkesinde büyük bir kıraklık meydana gelmiştir. Bu yüzden atların ve sığırların onda yedisi ve sekizi ölmüştür. Oğuzlar ot kökü yemek zorunda kalmıştır."

Çin yıllıklarında yer alan bu ifadelere bakılarak aşağıdakilerden hangisine ulaşamaz?

- A) Eski Türklerin temel geçim kaynağı hayvancılık olmuştur.  
B) Türkler doğa şartlarından olumsuz yönde etkilenmişlerdir.  
C) Çinliler, Türkleri yakından takip etmişlerdir.  
D) Türkler yerleşik yaşama geçmek zorunda kalmışlardır.

5.

Orta Asya'da ölen kişiler giysileriyle, silahlarıyla, yiyecek ve içecek kaplarıyla ayrıca, kurban edilmiş atlarıyla mezarlara gömülmüşlerdir. Mezarların başına da öldürdükleri düşmanı simgeleyen balbal adı verilen kabaca yontulmuş heykeller dikmişlerdir.

Bu verilere bakılarak aşağıdakilerden hangisine ulaşılabilir?

- A) Türkler öldükten sonraki yaşamın devamına yani ahirete inanmışlardır.  
B) Türkler Maniheizm ve Budizm dinlerini benimsemişlerdir.  
C) Türkler cenaze törenlerine çok önem vermişlerdir.  
D) Türkler çok tanrılı dini inancı benimsemişlerdir.

5

6. I. İlk Türk devletlerinde Budizm inancı resmi din kabul edilmiştir.  
II. Ölülerıyla birlikte onların değerli eşyalarını da gömmüşlerdir.  
III. Uygurlar yalnızca Kök Tanrı dinine inanmışlardır.  
IV. Ölüler için yağ adı verilen törenler düzenlenmiştir.

**Yukarıda İlk Türk devletlerindeki din ve inanişla ilgili olarak verilen bilgilerden hangileri doğrudur?**

- A) I ve II.                      B) II ve III.  
C) II ve IV.                    D) III ve IV.

7. I. Maniheizm dinini benimseyerek yerleşik hayata geçmişler ve savaşçılık özelliklerini kaybetmişlerdir.  
II. Çinliler bu devletin saldırılarından korunmak için Çin Seddi'ni yapmışlardır.  
III. Türklerin tarihteki ilk yazılı ürünü olan Orhun Yazıtları onlara aittir.

**Yukarıdaki bilgiler ilgili olduğu Türk devletlerinden hangisiyle doğru olarak eşleştirilmiştir?**

	I	II	III
A)	Avrupa Hun	Köktürkler	Uygurlar
B)	Uygurlar	Asya Hun	Köktürkler
C)	Asya Hun	Avrupa Hun	Uygurlar
D)	Köktürkler	Uygurlar	Avrupa Hun

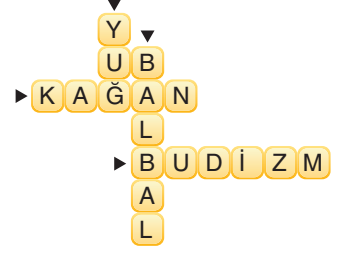
8. ▲ Asya Hun → Oğuz Kağan Destanı  
● Uygur → Türeyiş ve Göç Destanları  
★ Avrupa Hun → Ergenekon Destanı

Yukarıda ilk Türk Devletleri ve onlara ait destanlar eşleştirilirken yanlışlık yapılmıştır.

**Buna göre sembollerle verilen eşleştirmelerden hangileri yanlıştır?**

- A) Yalnız ★                      B) ▲ ve ●  
C) ★ ve ●                        D) ▲, ● ve ★

9.



**Bu bulmacada aşağıdakilerden hangisinin cevabı yoktur?**

- A) Eski Türk devletlerinde mezarların üstüne dikilen heykellerin adı nedir?  
B) Eski Türk devletlerinde ölümler için düzenlenen törenlere ne ad verilir?  
C) Eski Türk devletlerinde ülke meselelerinin görüşüldüğü meclisin adı nedir?  
D) Eski Türk devletlerinde hükümdarlara verilen unvana ne ad verilir?

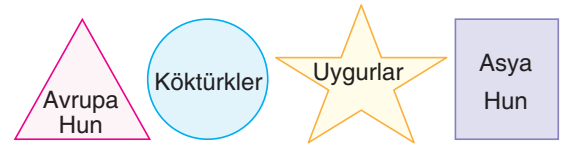
**10. Orta Asya'dan göç eden Türklerin yurt olarak Anadolu'yu tercih etmelerinde;**

- I. iklim şartlarının uygun olması,  
II. güçlü bir devletin bulunmaması,  
III. su kaynaklarının bol olması

**durumlarından hangileri etkili olmuştur?**

- A) Yalnız I.                      B) Yalnız II.  
C) II ve III.                      D) I, II ve III.

11.



**Yukarıda verilen ilk Türk devletlerinin kuruluş sıralaması hangisindeki gibi olmalıdır?**

- A) □ → △ → ○ → ☆  
B) ☆ → ○ → △ → □  
C) ○ → ☆ → □ → △  
D) △ → □ → ○ → ☆

1. Abbasiler Dönemi'nde İslam kültür ve medeniyeti gelişmiş, Bağdat şehri dünyanın en önemli bilimsel araştırmalarının yapıldığı merkez hâline getirilmiştir. Bu dönemde, daha önce yapılan bilimsel çalışmalar incelenerek Latince'den, Farsçadan ve Yunancadan eserler Arapçaya tercüme edilmiştir.

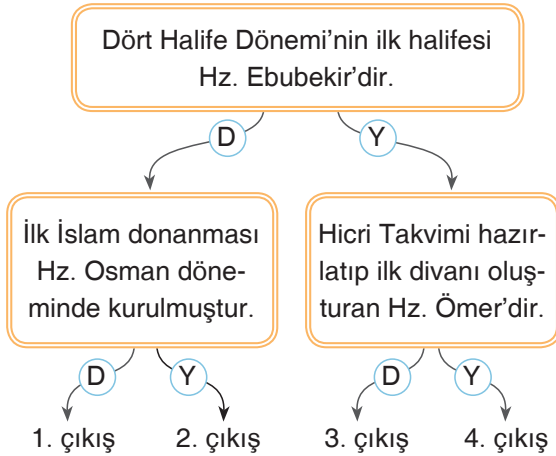
**Verilenlere göre,**

- I. Abbasiler bilimsel çalışmaların yapılmasını engellemişlerdir.  
 II. Abbasiler bilimsel araştırmalar yaparken çevirilerden faydalanmışlardır.  
 III. Abbasiler, Bağdat'ı dönemin bilim ve kültür merkezi hâline getirmişlerdir.

**İfadelerden hangilerine ulaşamaz?**

- A) Yalnız I.                      B) Yalnız III.  
 C) I ve II.                        D) II ve III.

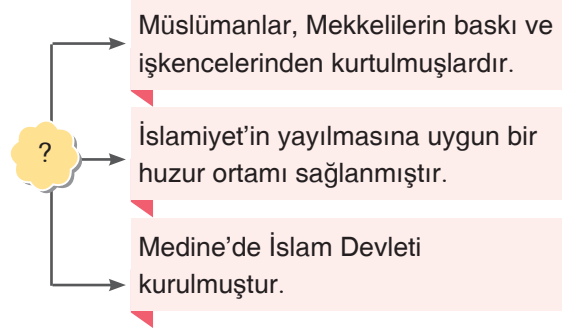
2. Aşağıda Dört Halife Dönemi'yle ilgili bazı bilgiler verilmiştir.



Verilen ifadelerden doğru olanlar için "D", yanlış olanlar için "Y" yolu izlenerek ilerlendiğinde hangi çıkışa ulaşılır?

- A) 1. çıkış                      B) 2. çıkış  
 C) 3. çıkış                      D) 4. çıkış

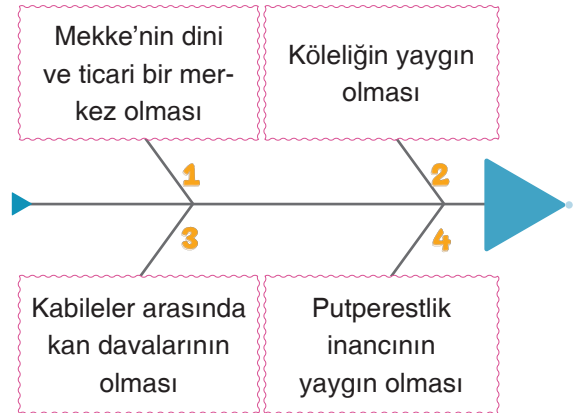
- 3.



Bu şemada verilenler dikkate alındığında "?" konulan yere aşağıdakilerden hangisi yazılmalıdır?

- A) Hudeybiye Antlaşması  
 B) Mekke'nin Fethi  
 C) Hicret'in Sonuçları  
 D) Bedir Savaşı'nın Sonuçları

- 4.



Yukarıdaki balık kılıçığı diyagramında numaralandırılarak verilenlerden hangisi İslamiyet'ten önce Arap Yarımadası'nda siyasi birliğin olmadığını kanıtlar?

- A) 1                      B) 2                      C) 3                      D) 4

5. Arap milliyetçiliği politikası ile diğer milletlerin İslamiyet'e geçişinin yavaşladığı dönem aşağıdakilerden hangisidir?

- A) Emeviler                      B) Abbasiler  
 C) Büyük Selçuklular                      D) Gazneliler

6. İlk Türk İslam devletlerinde çok sayıda medrese ve kütüphanenin kurulması, şairlerin ve bilim adamlarının yetişmesi aşağıdakilerden hangisinin göstergesi olamaz?
- A) Bilimsel çalışmalara değer verildiğinin  
B) Sanat ve bilimle uğraşanların korunduğunun  
C) Bilimsel çalışmalar yapanlar için gerekli ortamın oluşturulduğunun  
D) Bilimsel çalışmalarda Batı'nın örnek alındığının

7. İslam Devleti ile Mekkeli müşrikler arasında gerçekleşen Bedir Savaşı sonrasında alınan esirlerle ilgili Hz. Muhammed okuma yazma öğretme şartıyla serbest bırakılabileceklerini söylemiştir.

**Buna göre Hz. Muhammed'in bu davranışı aşağıdakilerden hangisine verdiği önemi göstermektedir?**

- A) Eğitim  
B) Askerî  
C) Ticaret  
D) Sağlık

8. İslamiyet öncesi Arap Yarımadası'nda,
- İnsanlar, kabileler hâlinde yaşıyorlardı.
  - Kabileler arasında kan davaları vardı.
  - Kadınlara ve kız çocuklarına değer verilmiyordu.

**Verilen bilgilere bakılarak Arap Yarımadası'yla ilgili,**

- I. İnsanlar arasında bir çatışma ortamı vardır.  
II. Toplumda kadınlara değer verilmemektedir.  
III. Güçlü bir merkezi otorite vardır.

**yargılardan hangilerine ulaşılabilir?**

- A) Yalnız I.  
B) I ve II.  
C) II ve III.  
D) I, II ve III.

9. Aşağıdakilerden hangisi Hz. Muhammed Dönemi'nde gerçekleşen olaylardan biri değildir?

- A) Arap Yarımadası'nda yaşayan insanların büyük bölümü Müslüman olmuştur.  
B) Toplumsal alanda eşitlik ve adalet sağlanamamıştır.  
C) Toplumsal dayanışmaya ve yardımlaşmaya önem verilmiş, halkın refah düzeyi artmıştır.  
D) Eğitime ve bilime verilen önem artmıştır.

- 10.



Yukarıdaki elmalarda yazan gelişmelerden Hz. Ömer Dönemi'ne ait olanlar ortadaki sepete atılacaktır.

**Buna göre kaç tane elma ortadaki sepete atılmalıdır?**

- A) 1  
B) 2  
C) 3  
D) 4

11. Türklerin İslamiyet'i kabul etmelerini;

- ▲ Türklerdeki cihan hâkimiyeti düşüncesiyle İslamiyet'teki cihat anlayışının benzerlik göstermesi,
- İslamiyet'teki kurban, ahiret, cennet ve cehennem gibi kavramların Türklerin inancında da yer alması,
- Emevilerin Arapları üstün gören politikalar uygulaması,
- ★ Talas Savaşı'ndan sonra Türkler ile Araplar arasında ticaretin gelişmesi

**etkenlerden hangileri kolaylaştırmamıştır?**

- A) ▲  
B) ●  
C) ■  
D) ★

1. Anadolu'da kurulan ilk Türk beylikleri kuruldukları yerlerin isimlerini Türkçe isimlerle değiştirmişler; aynı zamanda kuruldukları yerlerde han, hamam, cami, medrese gibi mimari yapılar oluşturmuşlardır.

**Verilen bilgilere bakılarak,**

- I. Türk beylikleri Anadolu'yu Türkleştirmeye çalışmışlardır.
- II. Türk beylikleri imar faaliyetlerinde bulunmuşlardır.
- III. Türkler Anadolu'da Bizans'ı yenilgiye uğratmışlardır.

**yargılarından hangilerine ulaşılabilir?**

- A) Yalnız I.                      B) I ve II.  
C) II ve III.                      D) I, II ve III.

2.



Arda

Öğretmen

Çocuklar, Türklerin Anadolu'yu yurt edinmek istemesinde neler etkilidir?

**Arda Öğretmen'in sorusuna aşağıdaki öğrencilerden hangisi yanlış cevap vermiştir?**

- A) **Zeynep:** Elverişli iklim özelliklerine sahip olma  
B) **Onur:** Önemli ticaret yolları üzerinde olması  
C) **Lale:** Gelişmiş sanayi merkezlerinin bulunması  
D) **Selim:** Bol su kaynaklarına sahip olması
3. İpek yolu, uzun bir süre boyunca doğu medeniyetlerinin zenginliklerini batıya taşımıştır. Bu sayede Batı medeniyetleri kâğıt, pusula ve matbaa gibi icatlarla tanışmışlardır.

**Buna göre İpek Yolu Batı medeniyetine hangi alanda katkı sağlamıştır?**

- A) Askerî                      B) Siyasi  
C) Kültürel                      D) Sağlık

4. Türkler Anadolu'yu yurt edinmek amacıyla önce keşif seferleri düzenlemişler. Anadolu'da yaşayan devletlere ve Anadolu'nun iklim özelliklerine bakmışlardır. Kendileri için uygun olduğunu görünce yurt edinmek amacıyla seferler düzenlemeye başlamışlardır.

**Verilen bilgilere bakılarak,**

- I. Türkler Anadolu'ya hazırlıksız gelmişlerdir.
- II. Anadolu Türkler için uygun bir ortama sahiptir.
- III. Türkler Anadolu'ya yerleşmek istemektedirler.

**yargılarından hangilerine ulaşılabilir?**

- A) Yalnız I.                      B) I ve II.  
C) II ve III.                      D) I, II ve III.

5. Anadolu'nun Türkleşme süreci bir anda gerçekleşen bir olgu olmayıp uzun bir tarihi süreç içinde gerçekleşmiştir. Çünkü Türk boylarının hepsi aynı anda Anadolu'ya gelmemiş, göç dalgaları yüzyıllar boyunca sürmüştür.

**Bu bilgilere göre Anadolu'nun Türkleşme süreciyle ilgili aşağıdakilerden hangisi söylenebilir?**

- A) Uzun bir süreçte aşama aşama gerçekleşmiştir.  
B) İklim koşulları Türkleşme sürecini olumsuz etkilemiştir.  
C) Aniden olup bitmiştir.  
D) Büyük savaşlara sebep olmuştur.

6. Anadolu'da kurulan Türk beylikleri hakim oldukları bölgelerde cami, medrese, han, kervansaray, köprü gibi dini ve sosyal kurumlar inşa ederek ülkenin imarına katkı sağladılar. Aynı zamanda Anadolu'da yaşayan farklı milletlere inanç özgürlüğü tanıyarak Anadolu'ya barış ve huzur getirdiler.

**Verilen bilgilere göre Türk beylikleriyle ilgili,**

- I. Anadolu'daki halka adaletle yaklaşmışlardır.  
II. Halka din konusunda baskı yapmamışlardır.  
III. Anadolu'yu bayındır hâle getirmeye çalışmışlardır.

**yargılarından hangilerine ulaşılabilir?**

- A) Yalnız I.                      B) I ve II.  
C) II ve III.                      D) I, II ve III.

7. Anadolu'nun kapılarını Türklere açan savaş olarak gösterilen meydan savaşları aşağıdakilerden hangisidir?

- A) Pasinler  
B) Dandanakan  
C) Malazgirt  
D) Talas

8. Türkiye Selçuklu Devleti'nin Anadolu'nun birçok yerinde hanlar, kervansaraylar yapması aşağıdaki alanlardan hangisinde gelişmeye çalıştıklarını gösterir?

- A) Siyasi                      B) Ticari  
C) Eğitim                      D) Askerî

9. Tarihi İpek Yolu ülkelerin ticaret yaptığı Çin'den Avrupa'ya kadar uzanan önemli bir yol olmuştur. Ticaretin yanında Batı ve Doğu ülkeleri arasında bir köprü vazifesi görmüş, bu yol ile Doğu'nun zengin medeniyeti batı medeniyetini geliştirmiştir.

**Bu bilgilere göre İpek Yolu'yla ilgili,**

- I. Kültürlerin kaynaşmasında önemli bir rol oynamıştır.  
II. Kültürel aktarım için bir araç olmuştur.  
III. Ekonomik ilişkilerin bozulmasına neden olmuştur.

**yargılarından hangilerine ulaşılabilir?**

- A) Yalnız I.                      B) I ve II.  
C) II ve III.                      D) I, II ve III.

10. Devletlerin birbirleriyle ekonomik ilişkiler kurdukları yerler aynı zamanda birbirleriyle etkileşime geçtikleri yerlerdir.

**Bu duruma;**

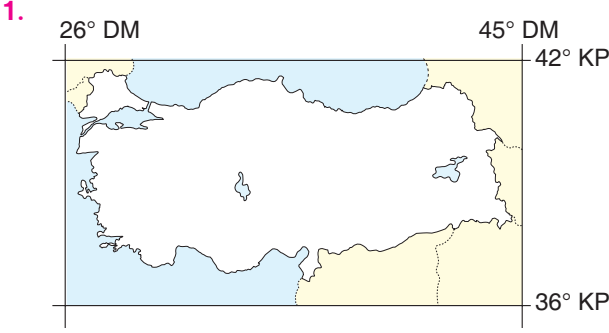
- I. İpek Yolu,  
II. Baharat Yolu,  
III. Kral Yolu

**hangileri örnek gösterilebilir?**

- A) Yalnız I.                      B) I ve II.  
C) II ve III.                      D) I, II ve III.

11. Türkiye Selçuklu Devleti, Anadolu'da ticareti geliştirmek amacıyla aşağıdaki mimari yapılardan hangisini oluşturmuştur?

- A) Hamam                      B) Medrese  
C) Kervansaray                      D) Cami



Yukarıda Türkiye'nin coğrafi koordinatları verilmiştir.

**Verilen bilgilere bakılarak aşağıdakilerden hangisine ulaşamaz?**

- A) Türkiye başlangıç meridyeninin doğusunda yer almaktadır.  
 B) Türkiye Güney Yarım Küre'de yer almaktadır.  
 C) Türkiye'nin doğusu ile batısı arasında 19 meridyen geçmektedir.  
 D) Türkiye'nin kuzeyi ile güneyi arasında kuş uçuşu 666 km fark vardır.

2.

Ülkemizin en doğusu ile en batısı arasında 76 dakikalık yerel saat farkı vardır.	⇒	Matematik Konum
Türkiye çok çeşitli maden yataklarına sahiptir.	⇒	Matematik Konum
Ülkemiz Kuzey Kutbu ile Ekvator arasındadır, Ekvatora daha yakındır.	⇒	Özel Konum
Türkiye Karadeniz'i, Akdeniz'e bağlayan boğazlara sahiptir.	⇒	Özel Konum

**Eşleştirmelerin doğru ve yanlış olarak sıralanışı aşağıdakilerden hangisinde doğru verilmiştir?**

- A) Y - D - Y - D                      B) D - D - Y - Y  
 C) D - Y - Y - D                      D) D - Y - D - Y

3. Herhangi bir şehir, bölge veya ülkenin Dünya üzerindeki konumuna coğrafi konum denir. Coğrafi konum; mutlak konum ve göreceli konum olmak üzere ikiye ayrılır. Bir noktanın paralel ve meridyenlerden yararlanarak Dünya üzerinde belirlenen yerine mutlak konum denir.

**Buna göre Türkiye'nin mutlak konumu ile ilgili aşağıdakilerden hangisi yanlıştır?**

- A) Başlangıç meridyeninin doğusunda yer alır.  
 B) Ekvator'un kuzeyinde yer alır.  
 C) Kuzeyi ile güneyi arasında 6° lik paralel farkı vardır.  
 D) Üç tarafı denizlerle çevrilidir.

4. Aşağıdaki seçeneklerin hangisinde Türkiye'nin matematik konumu doğru olarak verilmiştir?

- A) 26° – 45° Doğu meridyenleri  
 36° – 42° Kuzey paralelleri  
 B) 26° – 45° Güney paralelleri  
 36° – 45° Batı meridyenleri  
 C) 36° – 42° Doğu meridyenleri  
 26° – 45° Kuzey paralelleri  
 D) 36° – 42° Güney paralelleri  
 26° – 45° Batı meridyenleri